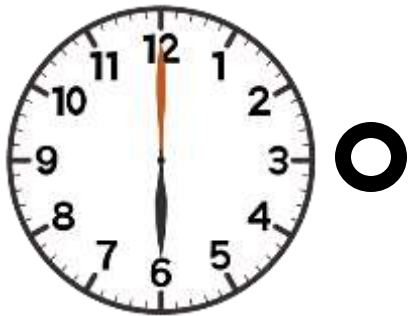


アナログ時計と 何時何分かを むすびつけよう。



2時00分



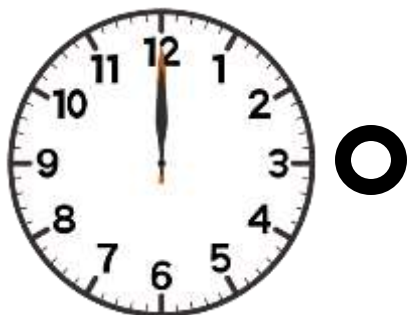
12時00分



10時00分




6時00分




8時00分

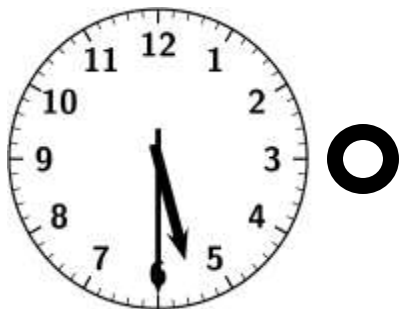
アナログ時計と 何時何分かを むすびつけよう。




2時30分



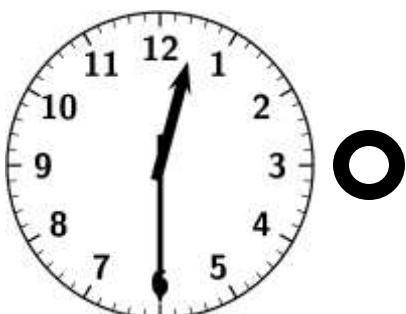
10時30分



4時30分



5時30分



12時30分

アナログ時計と どけい 何時何分かを なんじなんぶん むすびつけよう。



2時00分



2時15分



2時30分


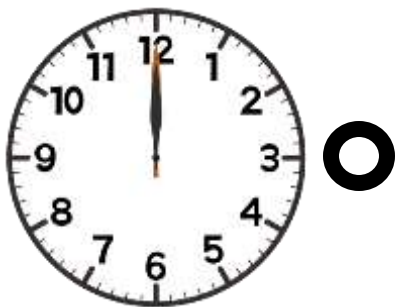
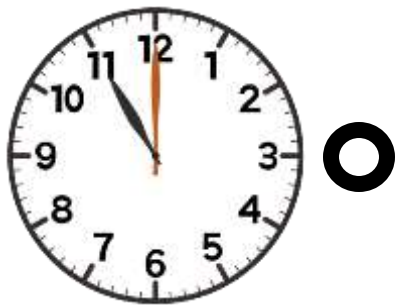
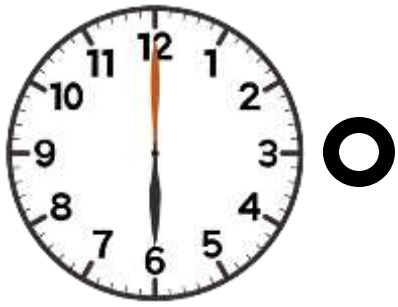


2時45分



3時00分

アナログ時計とデジタル時計 同じものを むすぼう。



アナログ^{どけい}時計とデジタル^{どけい}時計 ^{おな}同じものを むすぼう。



午前か午後か、どちらかに○をしよう。

AM 7:00



午前
午後 7時

PM 7:30



午前
午後 7時30分

PM 11:40



午前
午後 11時40分

AM 10:20



午前
午後 10時20分

AM 8:45



午前
午後 8時45分

PM 3:25



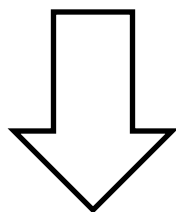


午前
午後 3時25分

とけい ^{じこく} ^{ようす}
時計がしめす時刻の様子は、どちらでしょうか。○をつけよう。



AM 7:00



きしょう
起床 おはようございます


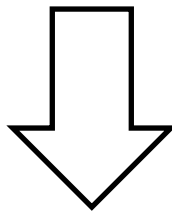


しゅうしん
就寝 おやすみなさい

とけい じこく ようす
時計がしめす時刻の様子は、どちらでしょうか。○をつけよう。



PM 3:30



きゅうしょく
給食 いただきます


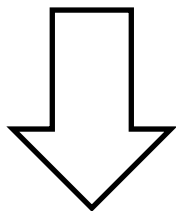


げこう
下校 さようなら

とけい じこく ようす
時計がしめす時刻の様子は、どちらでしょうか。○をつけよう。



PM 12:30



あさ かい
朝の会 おはようございます



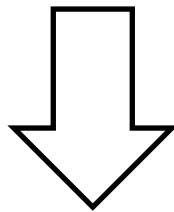


きゅうしょく
給食 いただきます

とけい じこく ようす
時計がしめす時刻の様子は、どちらでしょうか。○をつけよう。



AM 11:30



きゅうしょく
給食 いただきます



きゅうしょく じゅぎょう
給食まで授業がんばろう