
















いえにあるけいさんきをつかって、もんだいにこたえよう!! レベル①

				
きゃべつ 240円	アスパラガス 230円	だいこん 160円	たまねぎ 70円	かぼちゃ 600円
				
ミニトマト 180円	なす 60円	ほうれんそう 170円	ねぎ 110円	にんじん 80円
				
デコポン 300円	グレープフルーツ 200円	いちご1パック 800円	パイナップル 900円	メロン 1500円

問題1 1000円持っています。上の表から好きなものを1つだけ買ってください。

買った品名		
合計金額	円	おつり 円
















問題2 1000円持っています。上の表から好きなものを2つ買ってください。

買った品名	と	
合計金額	円	おつり 円

問題3 1000円持っています。上の表から好きなものを4つ買ってください。

買った品名	と	と
	と	
合計金額	円	おつり 円

いえにある計算機を使って、問題に答えよう!! レベル②

				
きゃべつ 240円	アスパラガス 230円	だいこん 160円	たまねぎ 70円	かぼちゃ 600円
				
ミニトマト 180円	なす 60円	ほうれんそう 170円	ねぎ 110円	にんじん 80円
				
デコポン 300円	グレープフルーツ 200円	いちご1パック 800円	パイナップル 900円	メロン 1500円

問題1 500円しか持っていない。上の表から好きなものを1つだけ買ってください。

買った品名	
合計金額	円
おつり	円
















問題2 500円しか持っていない。上の表から好きなものを2つだけ買ってください。

買った品名	と
合計金額	円
おつり	円

問題3 500円しか持っていない。上の表から4つ選んで買ってください。

買った品名	と	と
	と	
合計金額	円	円
	おつり	円

いえにある計算機を使って、問題に答えよう!! レベル ③

				
きゃべつ 240 円	アスパラガス 230 円	だいこん 160 円	たまねぎ 70 円	かぼちゃ 600 円
				
ミニトマト 180 円	なす 60 円	ほうれんそう 170 円	ねぎ 110 円	にんじん 80 円
				
デコボン 300 円	グレープフルーツ 200 円	いちご 1 パック 800 円	パイナップル 900 円	メロン 1500 円

問題 1 500 円 しか持っていない。

ぴったり 500 円になるように、上の表から 2 つだけ選んで 買ってください。

買った品名

と

問題 2 400 円 しか持っていない。

ぴったり 400 円になるように、上の表から 2 つ選んで 買ってください。

買った品名

と

問題 2 400 円 しか持っていない。

ぴったり 400 円になるように、上の表から 4 つ選んで 買ってください。
















買った品名

と

と

と

いえにある計算機を使って、問題に答えよう!! レベル④

				
きゃべつ 240円	アスパラガス 230円	だいこん 160円	たまねぎ 70円	かぼちゃ 600円
				
ミニトマト 180円	なす 60円	ほうれんそう 170円	ねぎ 110円	にんじん 80円
				
デコポン 300円	グレープフルーツ 200円	いちご1パック 800円	パイナップル 900円	メロン 1500円

問題1 900円 持っています。

ぴったり900円になるように、上の表から 2つだけ選んで 買ってください。

買った品名

と

問題2 300円 しか 持っていません。

ぴったり300円になるように、上の表から 2つ選んで 買ってください。

買った品名

と

問題3 1500円 持っています。

ぴったり1500円になるように、上の表から 4つ選んで 買ってください。
















買った品名

と

と

と

いえにあるけいさんきを使って、もんだいこたに答えよう!! レベル⑤

				
きゃべつ 240円	アスパラガス 230円	だいこん 160円	たまねぎ 70円	かぼちゃ 600円
				
ミニトマト 180円	なす 60円	ほうれんそう 170円	ねぎ 110円	にんじん 80円
				
デコポン 300円	グレープフルーツ 200円	いちご1パック 800円	パイナップル 900円	メロン 1500円

問題1 500円も持っています。

グレープフルーツと きゃべつ をか買いました。のこったお金で、あと何がなに買えますか？

のこったお金で

が 買えます。

問題2 1000円も持っています。

いちご1パックと ねぎ をか買いました。

のこったお金で、あと何がなに買えますか？

のこったお金で

が 買えます。

問題3 2000円も持っています。

メロンと デコポン をか買いました。なんでもいので、あと2つなに買いたいです。

のこったお金で、あと何 と 何 がなに買えますか？

のこったお金で

と

が 買えます。